

*Primera Evaluación*

**Unidad 1 : Los seres vivos.**

Nombre: ..... Curso: 5º PRIMARIA

Fecha: / /16

Control 1º

Calificación

--

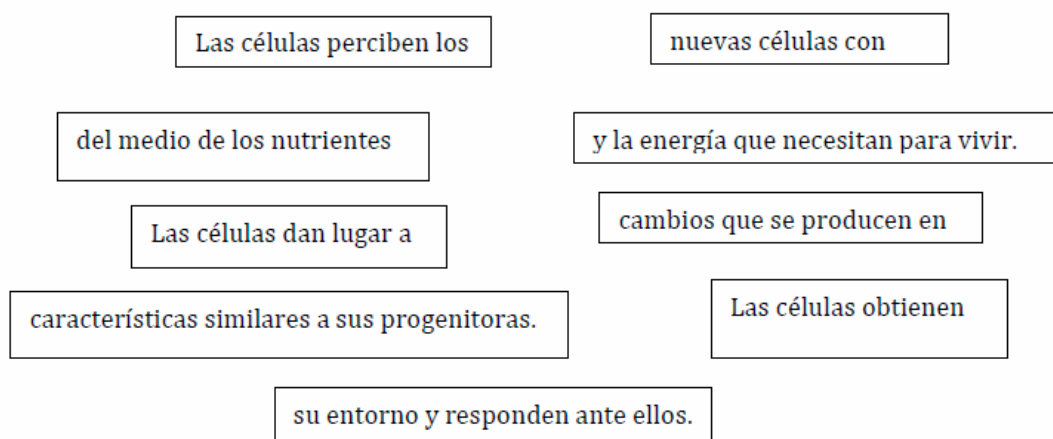
1. Completa el cuadro con las diferencias entre los seres vivos y los seres inertes.

Seres Vivos	Seres Inertes

2. Escribe V, si la oración es verdadera y F, si es falsa.

Las funciones vitales de los seres vivos son cuatro: reproducción, relación , nutrición y respiración.	
La reproducción permite a los seres vivos dar origen a nuevos organismos.	
Las funciones vitales de los seres vivos son tres: reproducción, relación y nutrición.	
Los seres humanos somos autótrofos .	
Los seres vivos llevan a cabo funciones vitales a diferencia de los seres inertes.	
Los seres vivos obtienen sus alimentos de los nutrientes.	

3. A partir de los fragmentos de oraciones desordenadas que se muestran construye las definiciones de las funciones de nutrición celular, de reproducción celular y de relación.



**Nutrición celular:**

\_\_\_\_\_

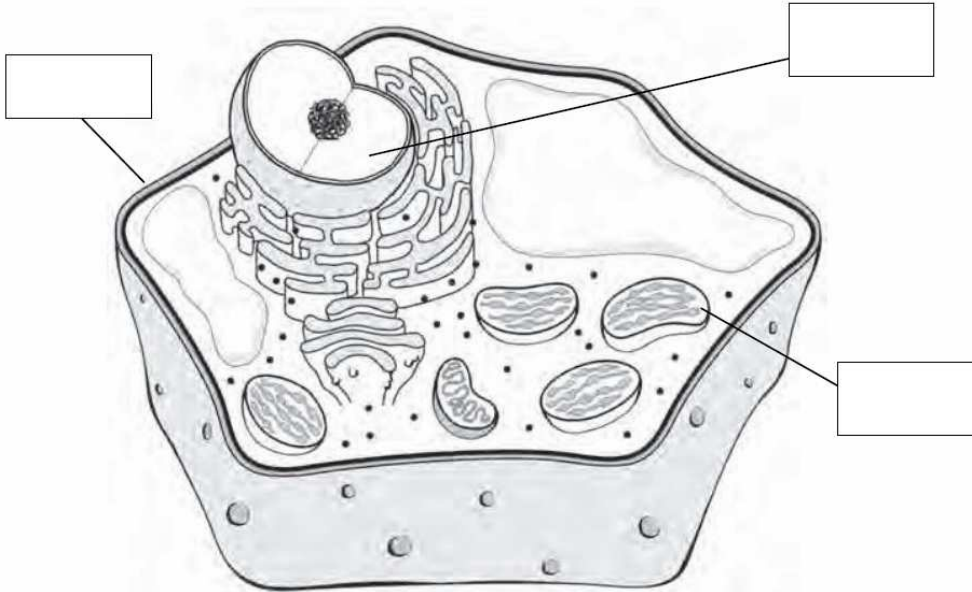
**Reproducción celular:**

\_\_\_\_\_

**Relación celular:**

\_\_\_\_\_

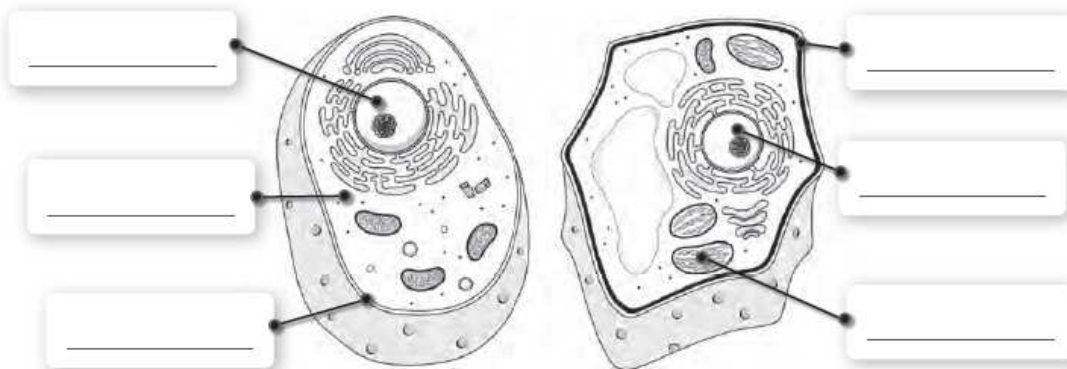
4. Escribe el nombre de las partes señaladas y luego relaciona cada parte de la célula con su función.



Núcleo
Membrana
Citoplasma
Orgánulos

Es el líquido que se encuentra en el interior de la membrana, contiene orgánulos.
Contiene el material genético, que controla y dirige el funcionamiento de la célula.
Desempeñan distintas funciones, como obtener energía o eliminar sustancias de desecho.
Es una capa que rodea la célula. La protege del medio externo y controla tanto la entrada de nutrientes como la salida de desechos.

5. Completa los esquemas con los nombres de las partes de la célula animal y vegetal. Explica en qué se diferencian ambas células.




---



---



---



---

6. Completa cada una de las definiciones con la ayuda de las palabras.

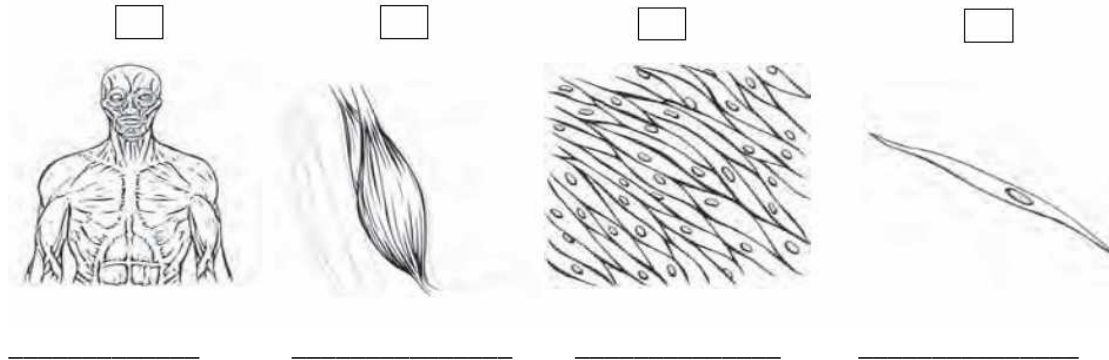
**funciones células pluricelulares organizada**

Los organismos \_\_\_\_\_ están constituidos por un gran número de \_\_\_\_\_ que trabajan de forma \_\_\_\_\_ para que le organismo realice sus \_\_\_\_\_ vitales.

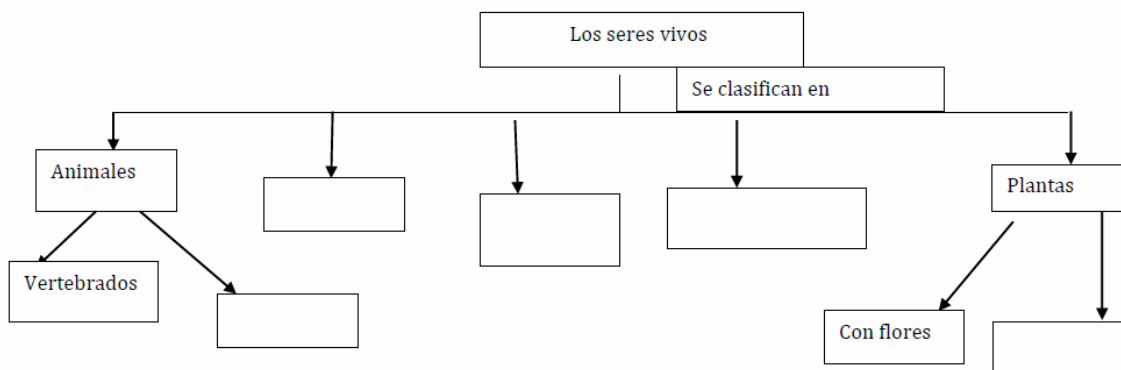
**independientemente una unicelulares**

Los organismos \_\_\_\_\_ están constituidos por \_\_\_\_\_ célula que puede vivir \_\_\_\_\_.

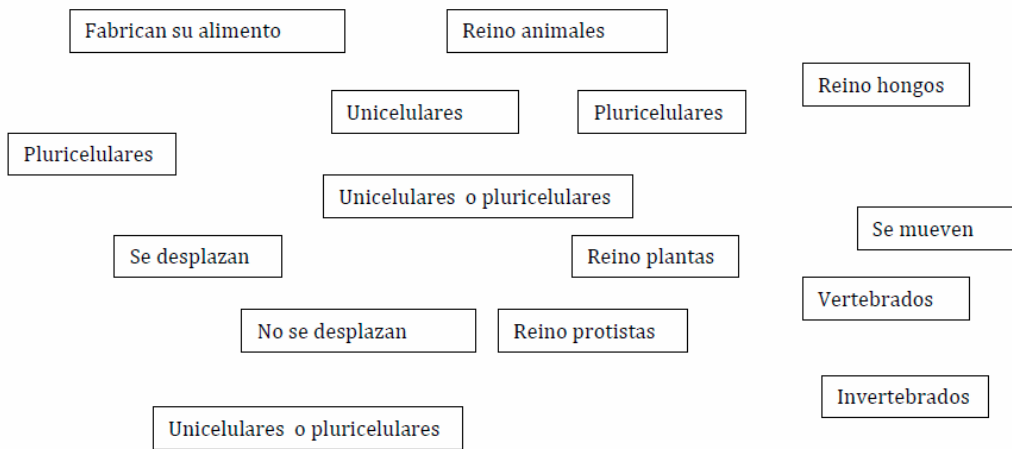
7. Ordena de más sencillo a más complejo y escribe su nombre debajo del dibujo correspondiente.



8. Completa este esquema sobre los cinco reinos.



9. Colorea con el mismo color los recuadros que se relacionan entre sí.



10. Pon el nombre de los reinos que faltan y relaciona cada uno con los siguientes seres vivos.

Animales                        Moneras

