

Primera Evaluación

Unidad 1 : Un lugar para vivir

Nombre: Curso: 6º PRIMARIA

Fecha: / /16

Control 1º

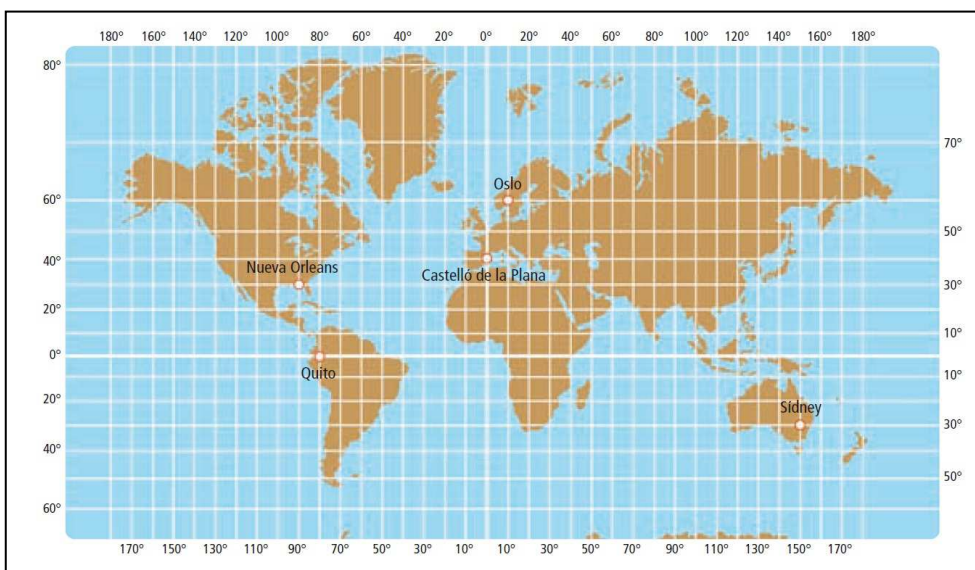
Calificación

1. Responde a las siguientes preguntas.

- ¿Qué es el relieve? ¿Qué lo provoca?

- ¿Qué factores físicos influyen en los paisajes?

2. Observa este mapamundi y contesta las preguntas.



- ¿Qué son los paralelos? ¿Y los meridianos?

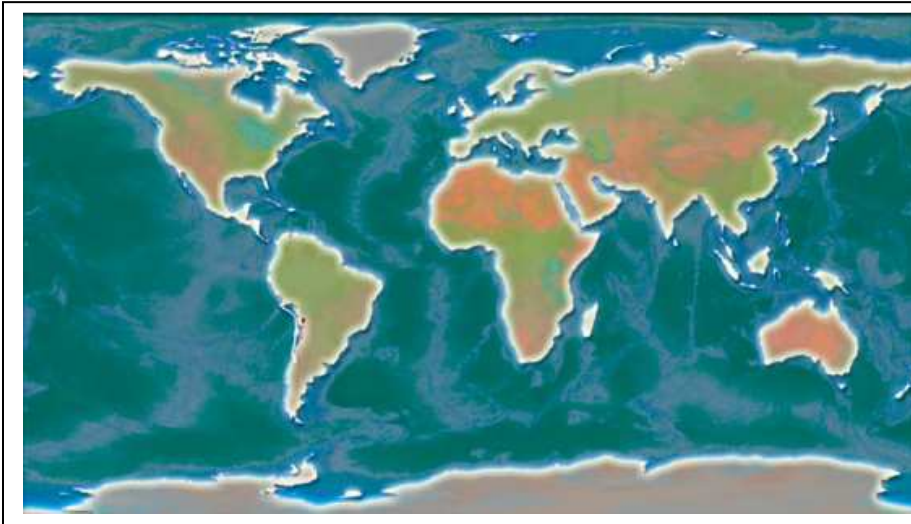
- ¿A qué ciudades pertenecen estas latitudes? Según el mapa anterior.

| | |
|----------------|--|
| 30° S, 150° E. | |
| 30° N, 90° O. | |
| 60° N, 10° E. | |

3. Responde a las siguientes preguntas.

- ¿Qué es un planisferio físico? ¿Y uno político?

- Localiza en este planisferio todos los océanos del planeta y los seis continentes.



4. Localiza en el primer mapa los sistemas montañosos. Después, responde a las preguntas.



- ¿Qué sistemas montañosos rodean la Meseta?

5. Relaciona cada concepto con su definición. Después, responde a la pregunta.

Hace referencia a la previsión de temperaturas y lluvias para un periodo concreto.

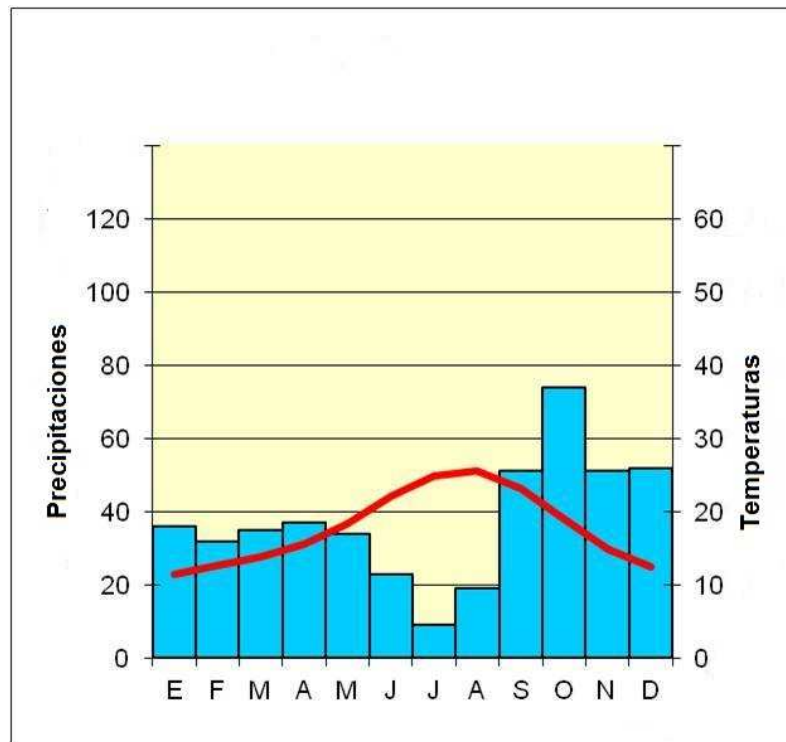
Hace referencia a las temperaturas, precipitaciones y vegetación de una región a lo largo del tiempo.

clima

tiempo atmosférico

- ¿Qué climas hay en España?

6. Observa el siguiente climograma y contesta a las preguntas.



- ¿Cuáles son las temperaturas de verano y de invierno en esta ciudad?

- ¿A qué tipo de clima crees que pertenece esta ciudad?

7. Relaciona las palabras con su definición.

vertiente hidrográfica

Territorio por el que discurren cursos de agua que desembocan en un mismo río.

régimen

Terreno por el que discurre un río.

cauce

Cantidad de agua que lleva el río en un momento concreto.

caudal

Variación de la cantidad de agua del río a lo largo de año.

curso

Recorrido que realiza el río desde su nacimiento hasta su desembocadura

cuenca

Territorio por el que discurren los ríos que van a parar a un mismo mar u océano.

8. Localiza en el mapa las vertientes hidrográficas de España y los ríos señalados



Explica las tres vertientes hidrográficas de España

9. Marca en el mapa estos elementos del relieve europeo. Después, responde a la pregunta.

- | | | |
|---------------------------|---------------------|--------------------------|
| 1. Islandia | 6. islas Británicas | 11. península Báltica |
| 2. Montes Urales | 7. Alpes | 12. Sicilia |
| 3. Montes Escandinavos | 8. Cárpatos | 13. Gran llanura Europea |
| 4. mar Báltico | 9. mar Negro | 14. Cerdeña |
| 5. península de Jutlandia | 10. golfo de León | |



- ¿Cómo es el relieve de Europa?

10. Clasifica estos climas según sean templados o fríos.

| | | |
|-------------------|--------------------|----------------------------|
| clima continental | clima mediterráneo | clima oceánico o atlántico |
| clima de montaña | | clima polar o subártico |

| templados | fríos |
|-----------|-------|
| | |